

## CEVNI – ENDORSEMENT TEST # 2 - FOR ICC

(CEVNI Международный сертификат компетентности IYT (Code Europeen Des Voies De Navigation Interieure) (Европейский кодекс внутренних водных путей))

ФИО кандидата \_\_\_\_\_ Паспорт или ID номер \_\_\_\_\_

Название школы \_\_\_\_\_ Номер школы \_\_\_\_\_

Ответьте на все вопросы

Время: 45 мин

Проходной балл - 12 правильных ответов

Экзамен содержит 16 вопросов. Только один вариант ответа правильный. Если вы отметите два или более вариантов ответа на один вопрос, то это будет считаться ошибкой. Внимательно прочитайте вопрос, прежде чем ответить. Использование блокнотов или справочников не допускается.

Отметки кандидата

Обведите кружком тот ответ, который вы считаете правильным.

1. Что означает этот знак?

1. Будьте внимательны.
2. Проход запрещен.
3. Есть навигационные ограничения, наведите справки.
4. Будьте готовы остановиться.



2. Что означает этот звуковой сигнал?

1. Мои двигатели работают на задний ход.
2. Неминуемая опасность столкновения.
3. Я собираюсь повернуть налево.
4. Я собираюсь повернуть направо.



3. Что означает такой флаг на судне?

1. На судне требуется медицинская помощь.
2. Судно имеет длину менее 24 м и перевозит пассажиров.
3. Судно перевозит/загружает опасный груз.



4. Судно имеет приоритет.

4. Что означает этот знак?

1. Проход бортом запрещен.
2. Стирка запрещена.
3. Сильное течение, опасные волны.



5. Судно на водном пути класса 1, идущее вверх по течению, показывающее этот сигнал:

1. Ограничено в возможности маневрировать.
2. Намеревается пропустить суда, двигающиеся вниз по течению, по правому борту.
3. Намеревается пропустить суда, двигающиеся вниз по течению, из порта в порт.
4. Указывает, что суда, двигающиеся вниз по течению, могут проходить с любой стороны.



6. Что означает этот знак?

1. Впереди канал имеет изгиб "S".
2. Суда должны перейти на другую сторону канала.
3. Судам запрещено переходить на другую сторону канала.
4. Впереди могут встретиться суда, маневрирующие с трудом.



7. В каких зонах запрещено швартоваться?

1. Где разрешено скоростное движение.
2. В местах, где разрешен разворот.
3. В 50 метрах от судна, которое несет синий конус.

8. Какой минимальный возраст рулевого допустим на внутренних водных путях?

1. 16.
2. 21.
3. 18.
4. 14.

9. Какое судно несет такие огни?

4. Лоцманское судно.
5. Паром.
6. Земснаряд.
7. Рыболовное судно.



10. Вы находитесь на мелководье, судно перестало реагировать на руль.

Ваши действия:

1. Двигаться зигзагом.
2. Увеличить скорость
3. Уменьшить скорость.


11. Что означает этот знак?

1. Проход запрещен.
2. Держитесь середины канала.
3. Подайте звуковой сигнал.
4. Будьте особенно внимательны.



12. Какое судно несет такие знаки?

8. Буксируемая баржа.
9. Рыболовное.
10. Ограниченное в возможности маневрировать, обходить по левому борту.
11. Ограниченное в возможности маневрировать, обходить по правому борту.



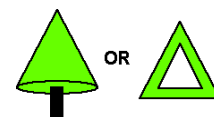
13. Эти знаки означают:

12. Впереди пересечение двух каналов.
13. Канал уходит вправо.
14. Канал уходит влево.
15. Самая большая глубина в центре канала.



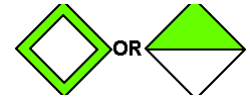
14. Что означают эти знаки?

16. Остановитесь на пересечении каналов впереди.
17. Опасность на правой стороне канала.
18. Предупреждение – Впереди паром.
19. Опасность на левой стороне канала.



15. Эти знаки означают:

1. Канал рядом с правым берегом.
2. Не швартоваться.
3. Заправочная станция.
4. Канал рядом с левым берегом.



16. Эти знаки означают:

5. Проход запрещен.
6. Держитесь правее.
7. Держитесь левее.
8. Проход разрешен

